




Nom:

Data:

Pinta les monedes segons el seu color corresponent i digues quantes monedes hi ha de cada color:

MONEDES DE CÈNTIM	
<p>COLOR BRONZE/MARRÓ</p> <p>1 CÈNTIM _____</p> <p>2 CÈNTIMS _____</p> <p>5 CÈNTIMS _____</p>	  
<p>COLOR DAURAT/GROC</p> <p>10 CÈNTIMS _____</p> <p>20 CÈNTIMS _____</p> <p>50 CÈNTIMS _____</p>	